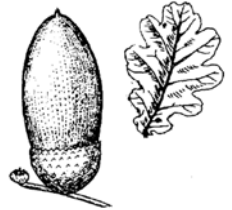


BAUM-RALLYE im Vogelpark Steinen

1 Gewässerufer -

Welche zwei Bäume wachsen gern am Ufer von Bächen und Flüssen?
Nachschauen könnt ihr im »Arboretum«, unserem Baumgarten mit
Beschreibungstafeln

- Erle? Linde? Weide? Eiche?



Standort im Park Nr. 1 siehe Rückseite

2 Welche Blätter sind gefingert?

- Kastanie Buche
 Ahorn Linde
 Birke

2 Punkte




Standort im Park Nr. 2, siehe Rückseite

3 Strauch am vorderen Teich -

Dieser amerikanische Strauch (*bottlebrush buckeye* =
Aesculus parviflora) hat Blätter, die sehr ähnlich sind
wie bei einem bekannten einheimischen Baum,
der auch nahe verwandt ist mit:


- Kastanie Buche Eiche



Standort im Park Nr. 3, siehe Rückseite

2 Punkte

- 4** Amerikanischer Lederhülsenbaum - Die Blätter, Blüten und Fruchtschoten haben Ähnlichkeit mit Hülsenfrüchten (Bohnen, Erbsen, Linsen). Mit diesen ist der Baum auch verwandt, ebenso mit der Robinie, ein ebenfalls aus Amerika stammender Baum, der bei uns mittlerweile häufig ist. Wo wachsen hier am Lederhülsenbaum die längsten Stacheln:



3 Punkte

Standort im Park Nr .4, siehe Rückseite

- Stamm Astgabeln Zweige

- 5** Felsenbirne - Die kleinen Früchte der Felsenbirne (Canadian serviceberry = Amelanchier canadensis) sehen ähnlich aus wie Blaubeeren und sind essbar. Von welchem Kontinent stammt dieser Baum?



- Amerika Afrika Asien

Standort im Park Nr 5, siehe Rückseite

2 Punkte

- 6** Haselnuß - Wie fühlen sich Haselnuß-Blätter an?

- weich stachelig
 glatt samtig
 ledrig



Standort im Park Nr. 6, siehe Rückseite

1 Punkte

- 7** Welcher Nadelbaum hat die längsten Nadeln?

- Fichte Kiefer



2 Punkte



- Tanne

Wieviel Nadeln sind bei dieser einheimischen Baumart zusammen angewachsen?

- eine zwei vier

2 Punkte

Standort im Park Nr. 7, siehe Rückseite

8 Weide - Die Blüten werden als »Kätzchen« bezeichnet, warum wohl?

- Weil die Färbung nach Katze aussieht
- Weil sie pelzartig behaart sind
- Weil sich Mäuse darin verfangen
- Weil sie von Mäusen gefressen werden
- Weil es Miau macht, wenn man draufdrückt

1 Punkt

Standort im Park Nr. 8, siehe Rückseite

9 Welcher einheimische Nadelbaum hat die größten Zapfen?

- Fichte
- Kiefer
- Tanne

1 Punkt

Standort im Park Nr 9

Siehe Rückseite

10 Tulpenbaum - Er gehört in die Verwandtschaft der Magnolienbäume, die gern bei uns in Gärten und Parks gepflanzt werden. Sie blühen auch wie diese im Frühling. Schau die Form der Blätter an. Wie kann man diese Blätter vom Ahorn unterscheiden?



3 Punkte

- Mehr Blattspitzen
- Weniger Blattspitzen

Standort im Park Nr. 10,
siehe Rückseite

Rallye-Teilnehmer

Name / Team-Name: _____

Wir gehören dazu: _____

Treffpunkt nach
Rallye-Ende: _____

Uhrzeit: _____

Rallye-Auswertung

Rallye-Sieger ist: _____

Erreichte Punktzahl: _____
(max. erreichbare Punkte = 20)

Name / Team-Name: _____